

Úkoly český jazyk 6. roč. 22.- 26. 3. 2021

(Mgr. H. Vojtasík)

Větné členy. Vypracuj cvičení a papír odevzdej ve škole.

S dotazy a komunikaci se mnou se obračejte na e-mail: h.vojtasik seznam.cz nebo tel: 605 519 523

Předmět

Předmět nejčastěji rozvíjí sloveso, ale také přídavné jméno.
Ptáme se na něj pádovými otázkami (kromě 1. a 5. pádu).
Vyjadřuje to, nač slovesný děj přechází, co zasahuje.

Předmět bývá vyjádřen:

Podstatným jménem

Sbírali jsme houby.

Přídavným jménem

Silný se vyvyšuje nad slabým.

Zájmenem

Napišeme jim.

Infinitivem slovesa

Umíš malovat?

Doplňte do vět předměty a určete jejich pády:

K narozeninám jsem dostal..... Zajíc okusoval.....

Vyprávěl nám o Nepočítal s Lékař mu na čtení

předepsal silnější Nezapomeň Zatelefonovat.

Lakomec byl chtivý Paní učitelka nebyla spokojena s našimi

..... Milan se při hodině bavil s Pobyť na horách prospívá našemu

..... Koupilk svátku

Do textu doplň vhodné spojovací výrazy:

V pohádce O hloupé havířce se vypravil havíř do světa,.....našel hloupější ženu,...

.....měl doma.

Ošidil lakomou statkářku.....povedlo se mu oklamat i bohatého šlechtice.

Prodal staré pekařce recept na omládnutí,.....spolu s celým městečkem se jí

vysmál,.....běhala v noční košili kolem náměstí.

Úkoly dějepis 6. roč. 22.- 26.3. 2021

(Mgr. H. Vojtasík)

Zapiš do sešitu. Odpověz na otázky na druhou stranu a podepsaný papír dones do školy.

ČÍNA

r. 221 př.n.l. první centralizovaný stát **Čchin** – Čína- vládce se prohlásil císařem

Na Čínu útočily ze severu kočovné kmeny

A proto nechali postavit **Velkou čínskou zeď** (mohutná hradba dlouhá cca 6000km – největší stavba lidstva na světě)



Čína obchodovala s Římem = **Hedvábná stezka** – dopravovalo se po ní zboží z Asie do Evropy

野 Wild	神 God	仇 Hate	銀 Silver	婚 Marriage	白 White	婚 Marriage	妓 Bitch	假 Fake	真 Real
信 Beliefs	中 Middle	賊 Thief	妓 Bitch	王 King	銀 Silver	金 Gold	巨 Giant	仇 Hate	強 Streng
強 Strong	幹 Fuck	女 Girl	淫 Smattily	陽 Sun	中 Middle	夏 Summer	信 Beliefe	陽 Sun	月 Moon
陽 Sun	神 God	王 King	銀 Silver	金 Gold	賊 Thief	淫 Smattily	王 King	幹 Fuck	女 Girl

Číňané jsou velmi vzdělaný národ (písmo – znakové již 2.000 let př.n.l.)

Číňané obohatili lidstvo o mnoho vynálezů

Papír, kompas, střelný prach, padák.....

- 1) Napiš jména dvou největších čínských řek
- 2) Co se pěstovalo ve starobylé Číně?
- 3) Nakresli kompas, padák

Odpověz na otázky a obrázek nakresli na druhou stranu pracovního listu

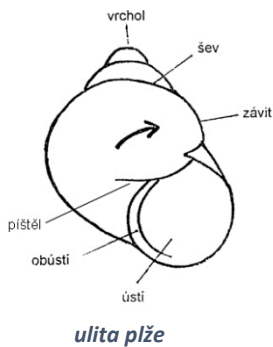
PŘEPIS a PŘEKRESLI do SEŠTU:

Bezobratlí živočichové – MĚKKÝŠI

Do kmene měkkýšů patří: **PLŽI, MLŽI a HLAVONOŽCI.**

Hlavní znaky pro celý kmen: **Měkkýši mají měkké tělo**, často kryté schránkou.

1. **Plži mají** jako schránku většinou **ulitu**.
2. **MLži jsou kryti dvěma** miskovitými **lasturami**.
3. **Hlavonožci schránku většinou nemají**, nebo jen destičku zarostlou v těle = **sépiovou kost**



PLŽI – HLEMÝŽD' ZAHRADNÍ:


Hlemýžď má **měkké tělo chráněno** spirálovitě stočenou **ulitou**.

Hlemýžď má **svalnatou nohu**, která vylučuje sliz a tím mu usnadňuje pohyb.

Hlemýžď je **býložravec**, který si **strouhá rostlinnou potravu drsným jazýčkem – radulou**.

Hlemýžď se orientuje pomocí **očí**, které má na **delších tykadlech** a **hmatových buněk** na **kratších tykadlech**.

Hlemýžď zahradní – popiš části jeho těla



Zeměpis VI. tř., 22. - 26. 3. 2021, Pohyby vody na Zemi

Učebnice s. 50 - 52, přečíst a potom splnit úkoly.

Skupenství vody, doplň text: Voda je jedinou látkou na Zemi, která se vyskytuje ve skupenstvích. Pevné skupenství - voda je ve formě, kapalně skupenství - voda je ve formě, plynné skupenství - voda je ve formě

Vodní oběh, opakování z 5. tř., doplň text: Zdrojem vláh pro krajinu jsou atmosférické Počátek vodního oběhu je v Voda se z něj a tvoří Velká část vypařené vody se v podobě vrací do Srážky padají také na zemský povrch a postupně se v podobě vrací do Část vody se a stane se vodou

Pohyb vody v oceánech, rozeznáváme tři druhy pohybu oceánské vody:

1) 2) 3)

Vlnění: Vlny vznikají především působením

Příliv a odliv: vzpomeň si na první pololetí, vzniká působením přitažlivé síly

Oceánské proudy: Vznikají v důsledku rozdílu teplot mezi tropickými a polárními oblastmi, rozlišují se a oceánské proudy

s. 52, **Pohyby vody na pevnině**. Jak rychle a kam srážková voda odtéká, ovlivňují především tvary povrchu. Voda teče od pramene k

Území, z něhož voda odtéká jedním tokem, se nazývá

Území, z něhož je voda odváděna do jednoho, se nazývá Hranice mezi sousedními nebo se nazývá

Doplňte nebo vyberte správná tvrzení.

Voda se na Zemi vyskytuje ve skupenstvích. Voda v oceánech je neustále v *pohybu/klidu*. Přitažlivá síla mezi Zemí a Měsícem (Sluncem) způsobuje a Při těchto pohybech dochází k a vodní hladiny. Vlnění je způsobeno vlivem *větru/pohybu litosférických desek*. Pohyb vody na pevnině je ovlivněn tvarem Po dešti nebo při tání sněhu se na řekách *průplav/průtok*. Hranice mezi sousedícími úmořímí se nazývá *povodí/rozvodí*.

Fyzika VI. tř., 22. - 26. 3. 2021, Opakování probraného učiva

1) **Těleso a látka**, s. 11: Fyzika zkoumá různé těles i jejich

.....

Zabývá se i příčinami těchto změn.

Těleso je osoba, zvíře, rostlina nebo, které můžeme přisoudit tvar,..... a

2)

s. 13: Všechno kolem nás je tvořeno Z různých **láték** se skládají tělesa, ale i, které tělesa nejsou (např. pára z žehličky).

3) Do tabulky dopiš správnou látku, ze které se těleso skládá.

Látka: papír, hlína, guma, voda (led), sklo, dřevo, umělá hmota, železo, žula.

Těleso	látka.....
okenní tabule	
špendlík	
kniha	
skříň	
cihla	
pneumatika	
skála	
rampouch	
kryt mobilu	

Skupenství látek s. 15: Látky mohou být ve skupenství,
..... a

Doplň tabulku:

těleso z látky ve skupenství	mění snadno.....	nemění.....
pevném	-----	
kapalném		
plynném		-----

. 14: **Kapaliny i plyny** se mohou přelévát, mohou volně proudit - téci. Proto je označujeme společně jako

Výchova k občanství VI. tř., 22. - 26. 3. 2021, Osobnosti ČR

Dnešní úkol je značně jednoduchý. Sleduj pravidelně v televizi zprávy a napiš 5 jmen osob (osobností), které se vyjadřují k průběhu a opatřením týkající se virové infekce Covid 19.

.....
.....
.....
.....
.....

Napiš také počet lidí, kteří už na tuto nemoc v ČR zemřeli.

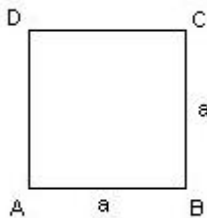
Napiš základní pravidla, jak se této nemoci vyhnout:

.....
.....
.....

Obsah čtverce a obdélníka - opakování**Čtverec**

Čtverec má 4 strany

Všechny strany jsou stejně dlouhé.

A, B, C, D jsou vrcholy čtverce a je strana čtverce

Obsah je velikost plochy, kterou čtverec zabírá.

Vypočítáme ji tak, že vynásobíme délku jedné strany délkou druhé, sousední strany, která má ve čtverci stejnou délku.

$$S = a \cdot a$$

Obsah se udává v obsahových jednotkách (mm², cm², dm², m², km², a, ha).**Příklad:**

Určete obsah čtverce, který má délku strany 8 cm.

$$S = a \cdot a$$

$$S = 8 \cdot 8$$

$$S = 64 \text{ cm}^2$$

1. Vypočítej obsahy čtverců, které mají délky stran

- a) 35 cm b) 75 mm c) 145m


Obdélník

Obdélník má 4 strany

A, B, C, D jsou vrcholy obdélníku

 a, b jsou strany obdélníku

Dvě protější strany mají vždy stejnou délku



Obsah obdélníku je velikost plochy, kterou obdélník zabírá.

Vypočítáme ji tak, že vynásobíme délku jedné stran délkou druhé, sousední strany.

$$S = a \cdot b$$

Obsah se udává v obsahových jednotkách (mm², cm², dm², m², km², a, ha).**Příklad:**

Určete obsah obdélníku, který má délky stran 6cm a 9cm.

$$S = a \cdot b$$

$$S = 6 \cdot 9$$

$$S = 54 \text{ cm}^2$$

2. Vypočítej obsahy obdélníků které mají délky stran

- a) 9cm a 17 cm b) 43 dm a 32 dm c) 96 m a 155 m

Úkoly Anglický jazyk 6. třída (od 22. 3. do 26. 3.):

Tabulky a slovíčka přepište do sešitu a naučte se je.

I. Popis člověka, sloveso have got:

I. A) Základní tabulka časování slovesa have got:

<u>anglicky</u>	<u>výslovnost</u>	<u>překlad</u>
<i>I have got...</i>	<i>Aj hev got</i>	<i>Já mám...</i>
<i>You have got...</i>	<i>Ju hev got</i>	<i>Ty máš/ Vy máte</i>
<i>He has got...</i>	<i>Hi hez got</i>	<i>On má</i>
<i>She has got...</i>	<i>Ši hez got</i>	<i>Ona má</i>
<i>It has got...</i>	<i>It hez got</i>	<i>To má</i>
<i>We have got...</i>	<i>Vi hev got</i>	<i>My máme</i>
<i>They have got...</i>	<i>Dej hev got...</i>	<i>Oni mají</i>

I. B) Slovíčka:

hair /her/ vlasy

long /long/ dlouhé

eyes /ajs/ oči

short /šort/ krátké

nose /nouz/ nos

small /smol/ malé

mouth /mauf/ pusa

big /big/ velké

ears /irs/ uši

curly /kerli/ kudrnaté

I. C) Tvorba věty:

a) Oznamovací kladná věta:

osoba have got/has got

ostatní

I have got

long hair.

(Já mám

dlouhé vlasy)

II. Procvičování.

II a) Procvičování tvorby vět: POUŽIJTE TABULKU A SLOVESA

a) Přeložte tyto věty :

Vzor: ***She has got long hair. Ona má dlouhé vlasy***

Ty máš krátké vlasy. _____

On má kudrnaté vlasy _____

b) Doplňte podstatná jména do vět podle překladu:

Vzor: *Já mám dlouhé vlasy*

I have got long hair.

Ona má krátké vlasy.

She has got _____.

Ty máš velké uši.

You have got _____.

My máme velká ústa

We have got _____.

c) Doplňte HAVE / HAS do vět:

Vzor: Já mám modré oči.

I **have** got blue eyes.

Oni mají hnědé vlasy.

They _____ got brown hair

On má malé oči.

He _____ got small eyes.

Úkoly Informatika 6. třída (od 22. 3. do 26.3.):

I. Napište:

Napište dvě základní pravidla ověřování informací.

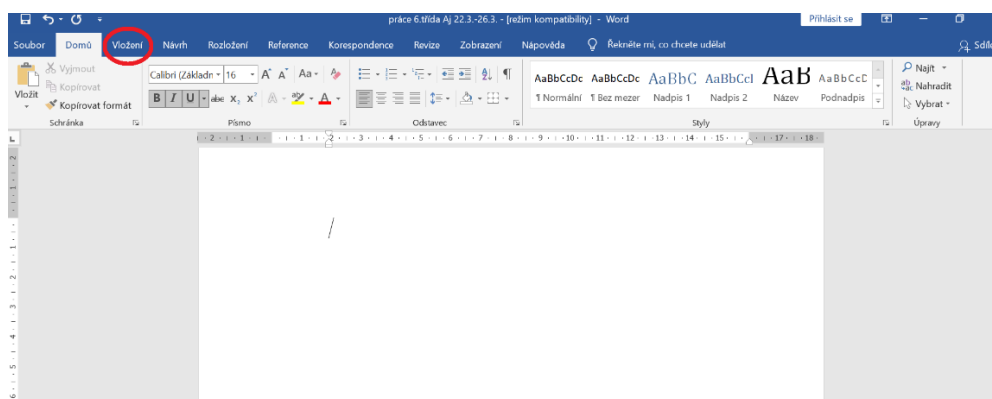
- _____

- _____

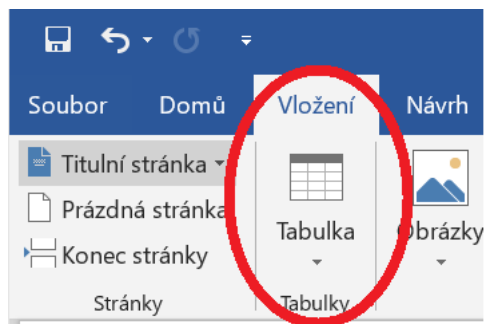
II. Přepište a zjednodušeně překreslete do sešitu:

MS word: Je textový procesor. Je určen převážně pro psaní textu, ale je možno vytvořit také tabulku viz. postup níže (úvod)

1. Na horní liště kliknu na nabídku (slovo) viz. následující obrázek



2. Na horní liště kliknu na nabídku (slovo) vložení, objeví se mi tato ikonka a znovu kliknu.



III. Opakování dnešního učiva:

Odpovězte, jestli je možné tvořit tabulky v textovém procesoru MS Word.
